

1*	Miejsce egzaminu	
2*	Numer kandydata	
3*	Kierunek studiów	
4	Liczba uzyskanych punktów	/100

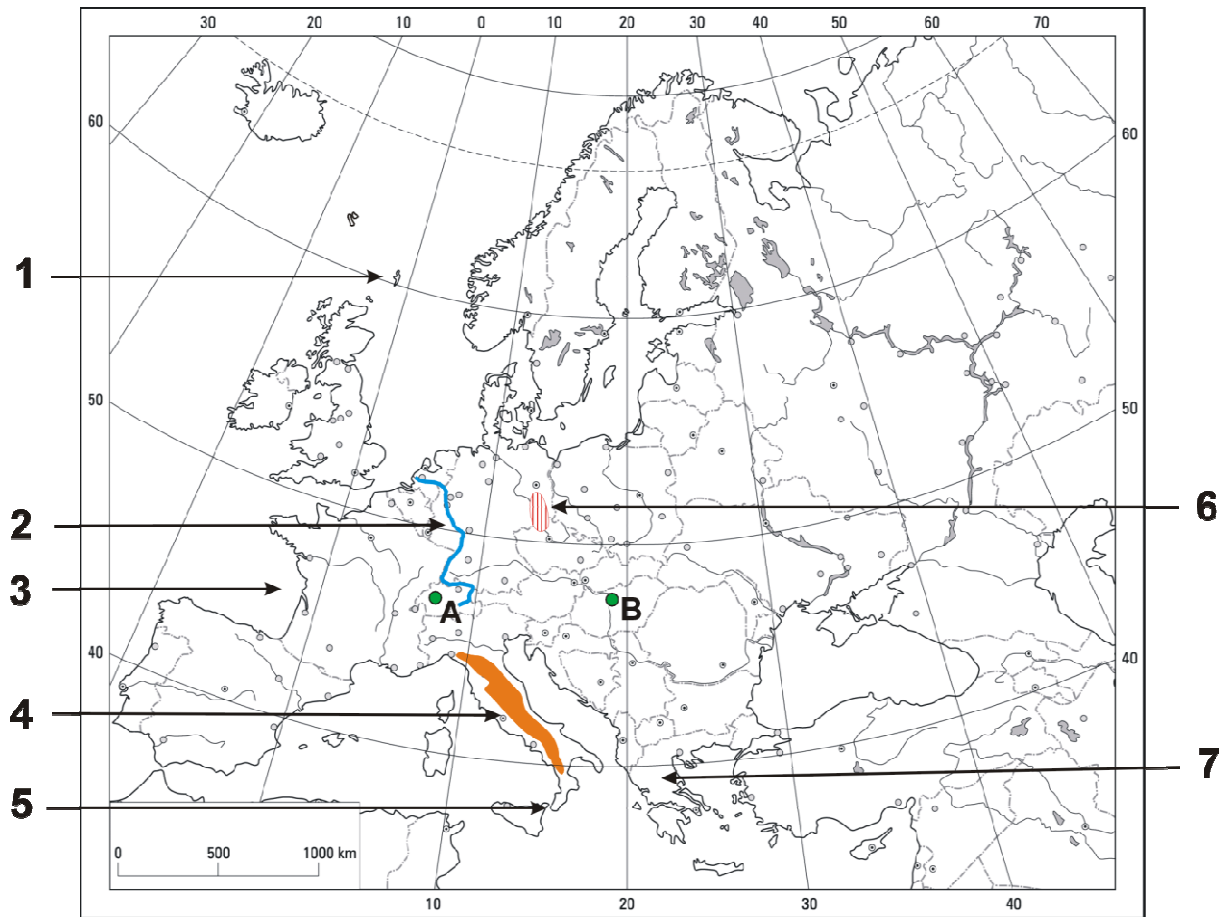
*** wypełnia kandydat**

T E S T Z G E O G R A F I I

Test rekrutacyjny dla kandydatów na studia w Polsce

WERSJA II - A

2014 rok

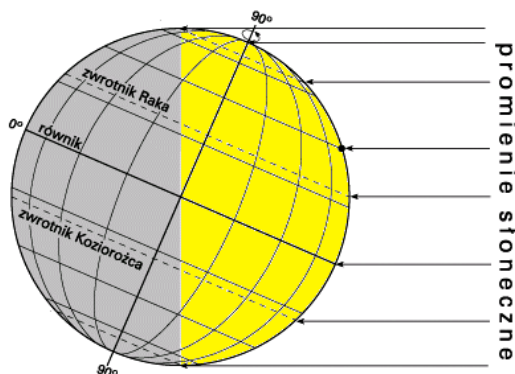


1. Wyspa zaznaczona na mapie cyfrą **1** to terytorium
 A) Danii. B) Wielkiej Brytanii. C) Norwegii. D) Islandii.
2. Cyfrą **2** oznaczono na mapie rzekę
 A) Ren. B) Dunaj. C) Sekwanę. D) Wisłę.
3. Cyfra **3** zajmuje obszar Zatoki
 A) Adeńskiej. B) Fińskiej. C) Biskajskiej. D) Lwiej.
4. Obszar oznaczony cyfrą **4** to
 A) Góry Dynarskie. B) Appalachy. C) Apeniny. D) Alpy.
5. Cyfrą **5** zaznaczono Cieśninę
 A) Mesyńską. B) Gibraltarską. C) Bosfor. D) Sycylijską.
6. Na obszarze zaznaczonym cyfrą **6** wydobywa się
 A) ropę naftową. B) węgiel kamienny. C) węgiel brunatny. D) rudy żelaza.
7. Cyfrą **7** oznaczono Półwysep
 A) Bretoński. B) Bałkański. C) Peloponeski. D) Kalabryjski.
8. Które europejskie stolice zaznaczono na mapie literami **A** i **B**?
 A) **A** – Wiedeń, **B** – Wilno. B) **A** – Lublana, **B** – Bratysława.
 C) **A** – Berno, **B** – Budapeszt. D) **A** - Wiedeń, **B** – Bukareszt.

9. Długość linii kolejowej między Łodzią a Krakowem to 250 km. Ile wynosi jej długość na mapie w skali 1: 7 500 000?
A) 33 mm. B) 33 cm. C) 3,3 m. D) 3,3 mm.
10. Podano cztery skale:
a) 1:250 000, c) 1cm – 20 km,
b) 1cm – 2 m, d) 1: 20 000.
Które zestawienie prawidłowo prezentuje skale uporządkowane w kolejności od największej do najmniejszej?
A) a, b, c, d. B) b, d, c, a. C) b, d, a, c. D) c, a, d, b.
11. Samolot leciał z Warszawy (52°N, 21°E) do Dubaju (25°N, 55°E) 6 godzin 30 minut. Wystartował w poniedziałek o godzinie 21:00 lokalnego czasu miejscowego. O której godzinie lokalnego czasu miejscowego i którego dnia tygodnia wylądował?
A) Wtorek 3:30. B) Wtorek 5:30. C) Wtorek 5:46. D) Wtorek 8:06.
12. Które zestawienie w prawidłowy sposób przedstawia wysokość Słońca nad horyzontem w Warszawie (52°N, 21°E) w południe w dniach równonocy, przesilenia letniego i zimowego?

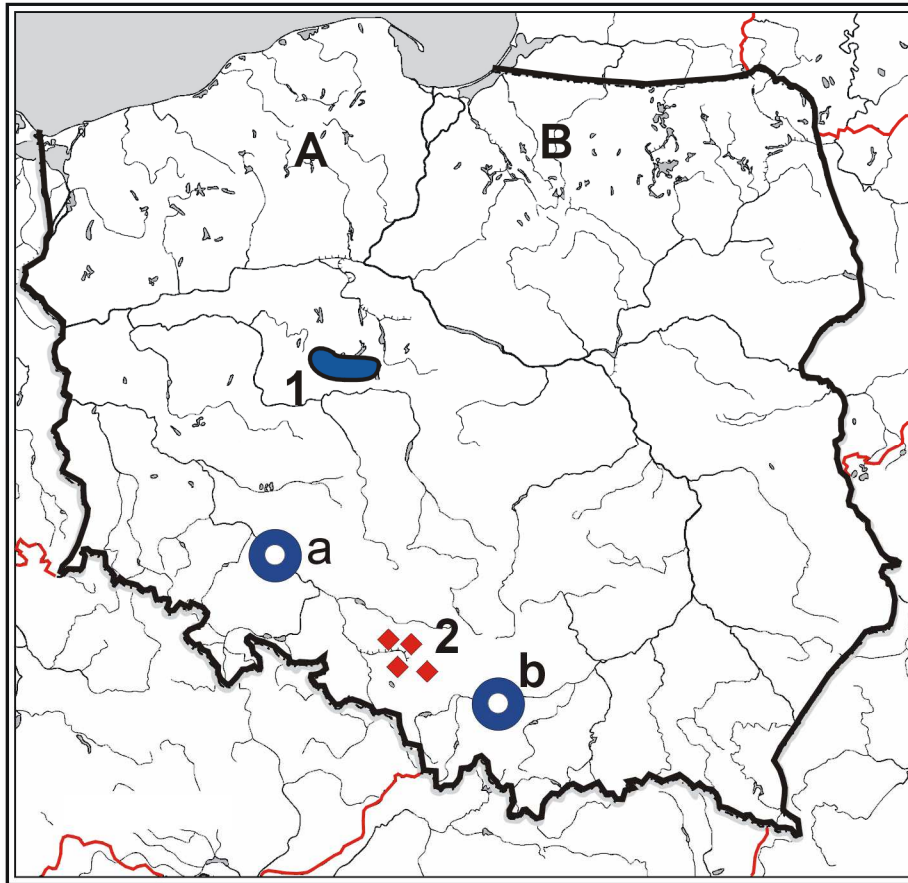
Odpowiedź	dzień równonocy wiosennej i jesiennej	dzień przesilenia letniego	dzień przesilenia zimowego
A	38°	61°27'	14°33'
B	23°27'	52°	21°27'
C	50°	73°27'	26°33'
D	21°	66°33'	6°23'

13. Zmierzono temperaturę na szczycie Babiej Góry (1725 m n.p.m.). Termometr wyświetlił minus 5°C. Uwzględniając wilgotno-adiabatyczny gradient temperatury obliczono temperaturę dla Zawoi (425 m n.p.m.) – miejscowości położonej u podnóża góry. Wyniosła ona
A) -18°C. B) 8°C. C) 2,8°C. D) -12,8°C.
14. Na rysunku przedstawiono oświetlenie Ziemi w dniu



- A) przesilenia letniego.
B) przesilenia zimowego.
C) równonocy wiosennej.
D) równonocy jesiennej.

15. Jak nazywa się położone w głębi Ziemi źródło rozchodzenia się fal sejsmicznych (ognisko trzęsienia ziemi)?
A) Krater. B) Epicentrum. C) Hipocentrum. D) Epitafium.



16. Cyframi **1** i **2** zaznaczono na mapie Polski obszary wydobywania surowców
- A) **1** – węgla kamiennego, **2** – węgla brunatnego.
 B) **1** – gazu ziemnego, **2** – rud miedzi.
 C) **1** – ropy naftowej, **2** – gazu ziemnego.
 D) **1** – węgla brunatnego, **2** – węgla kamiennego.
17. Literami **A** i **B** zaznaczono na mapie Polski krainy historyczno-geograficzne. Który zestaw jest prawidłowy?
- A) **A** – Pomorze, **B** – Mazury. B) **A** – Warmia, **B** – Podlasie.
 C) **A** – Mazowsze, **B** – Wielkopolska. D) **A** – Małopolska, **B** – Warmia.
18. Który zestaw odpowiada prawidłowym nazwom miast zaznaczonych na mapie Polski literami **a** i **b**?
- A) **a** – Wrocław, **b** – Katowice. B) **a** – Katowice, **b** – Kraków.
 C) **a** – Poznań, **b** – Rzeszów. D) **a** – Wrocław, **b** – Kraków.
19. Przedstawiono cztery wydarzenia z dziejów geologicznych Ziemi:
- a) powstanie Morza Bałtyckiego
 b) wypiętrzenie Alp i Karpat
 c) tworzenie się wapieni, kredy w środowisku ciepłego morza
 d) orogeneza hercyńska
- Który zestaw prawidłowo porządkuje wydarzenia od najstarszego?
- A) a, b, c, d. B) d, c, b, a. C) c, d, a, b. D) d, a, c, b.

20. Tabela przedstawia dane klimatyczne (t – temperatura, o – opady) dla trzech spośród wymienionych miast: Warszawy (52°N, 21°E), Rzymu (42°N, 12°E), Paryża (49°N, 2°E) i Kijowa (50°N, 3°E).

Miasto		I	II	III	IV	V	VI	VII	VIII	IX	X	XI	XII	Rok
1	t o	3,4 42	3,7 39	6,5 44	9,0 48	13,6 56	16,9 58	17,9 55	17,5 55	15,7 46	10,5 81	5,7 54	4,0 50	10,3 613
2	t o	-5,9 39	-5,2 38	0,4 41	7,5 45	14,7 58	17,8 72	19,2 74	18,7 66	13,9 46	7,5 44	1,2 48	-3,5 41	7,1 610
3	t o	6,9 77	7,9 89	10,7 78	13,9 77	18,1 84	22,1 47	24,7 14	24,6 22	21,6 68	16,5 128	11,6 118	8,5 108	15,8 887

Które zestawienie prawidłowo przedstawia nazwy miast i dane klimatyczne?

- A) **1** – Rzym, **2** – Kijów, **3** – Warszawa. B) **1** – Warszawa, **2** – Kijowa, **3** – Rzym.
C) **1** – Paryż, **2** – Kijów, **3** – Rzym. D) **1** – Paryż, **2** – Warszawa, **3** – Rzym.

21. W tabeli zamieszczono podstawowe dane demograficzne dotyczące wybranych państw.

	Przyrost naturalny w ‰	Urbanizacja w %	Kraj
I	-0,2	79	Japonia
II	6,2	79	USA
III	-4,9	73	Rosja
IV	5,3	40	Chiny

W którym zestawie prawidłowo dopasowano nazwę kraju do podanych danych statystycznych?

- A) Tylko **I**. B) Tylko **IV**.
C) Tylko **III** i **IV**. D) Wszystkie zestawy są prawidłowe.
E) Wszystkie zestawy są błędne.

22. Który zestaw zawiera miasta uporządkowane według położenia z północy na południe?

- A) Łódź, Warszawa, Lwów, Kijów. B) Oslo, Kopenhaga, Warszawa, Kijów.
C) Belgrad, Praga, Kraków, Sztokholm. D) Moskwa, Berlin, Warszawa, Paryż.
E) Madryt, Rzym, Sarajewo, Ateny.

23. Który zestaw w prawidłowy sposób przyporządkowuje państwo do stolicy?

	Państwo	Stolica
I	Liechtenstein	Vaduz
II	Chorwacja	Zagrzeb
III	Pakistan	Karaczi
IV	Namibia	Luanda

- A) Tylko **I**. B) **I** i **II**.
C) **II** i **III**. D) **I** i **IV**.
E) Wszystkie zestawy są prawidłowe.

24. Terytoriami zależnymi Wielkiej Brytanii są

- A) Midway, Wake, Guam. B) Falklandy, Kajmany, Aruba.
C) Wyspy Dziewicze, Portoryko, Bermudy. D) Gibraltar, Jersay, Falklandy.
E) Bahamy, Malediwy, Seszele.

25. Do języków z grupy słowiańskiej nie zaliczamy
 A) polskiego i litewskiego. B) estońskiego i fińskiego.
 C) serbskiego i chorwackiego. D) macedońskiego i bułgarskiego.
 E) litewskiego i łotewskiego.
26. **I.** Grupa etniczna to jest grupa ludności żyjąca na terytorium określonego kraju, należąca do innego narodu niż większość mieszkańców kraju.
II. W Polsce występują tylko 3 grupy etniczne.
III. Tatarzy, Łemkowie i Kaszubi to grupy etniczne zamieszkujące Polskę.
IV. Kaszubi i Łemkowie zamieszkują południową Polskę, zaś Tatarzy mieszkają w miastach nad Morzem Bałtyckim.
 Które zdanie jest prawdziwe?
 A) **I** i **III**. B) Tylko **I**.
 C) **III** i **IV**. D) Tylko **III**.
 E) Wszystkie zdania są prawdziwe.
27. Które zestawienie przedstawia obszary subekumeny?
 A) Północna Kanada, wybrzeże atlantyckie USA.
 B) Himalaje, Karakorum, Ałtaj.
 C) Syberia, Alaska, Tybet.
 D) Nizina Chińska, Nizina Gangesu, Nizina Mandżurska.
 E) Kyzyl-Kum, Kara-Kum, Takla Makan.
28. Megalopolis Nippon
 A) tworzą miasta: Szanghaj, Ningbo i Seul. B) leży na wschodnim wybrzeżu Chin.
 C) jest zespołem miejskim Korei. D) tworzą miasta: Tokio, Osaka, Nagoja.
 E) leży na atlantyckim wybrzeżu Stanów Zjednoczonych.
29. **I.** Deportacja oznacza przyjazd do ojczyzny osób, które stały się obywatelami innego kraju na skutek zmiany granic.
II. Państwami imigracyjnymi są między innymi Chiny, Indie i Algieria.
III. Jedną z przyczyn migracji jest zjawisko starzenia się społeczeństwa.
IV. Do głównych kierunków migracji Polaków w I połowie XX wieku należały Wielka Brytania, Francja i Stany Zjednoczone.
 Które zdanie jest prawdziwe?
 A) Tylko **I**. B) **II** i **III**.
 C) Tylko **IV**. D) **II** i **IV**.
 E) Wszystkie zdania są błędne.
30. Jednym z siedmiu świętych miast hinduizmu jest
 A) Bombaj. B) Kalkuta.
 C) Varanasi (Benares). D) Guadelupe.
 E) Santiago de Compostela.
31. Które kraje nie podpisały traktatu ustanawiającego Europejską Wspólnotę Węgla i Stali?
 A) Włochy i Francja. B) Niemcy i Holandia.
 C) Luksemburg i Belgia. D) Szwajcaria i Austria.
 E) Belgia i Holandia.

32. Które zestawienie przedstawia wydarzenia z historii Unii Europejskiej uszeregowane od najstarszego?
 a – podpisanie traktatu lizbońskiego
 b – utworzenie strefy euro
 c – wstąpienie do organizacji Wielkiej Brytanii
 d – utworzenie Europejskiej Wspólnoty Gospodarczej
 A) a, c, d, b. B) d, c, b, a.
 C) a, d, c, b. D) a, b, c, d.
 E) c, b, a, d.
33. Które terytoria były koloniami francuskimi?
 A) Algieria, Libia, Egipt. B) Namibia, Tanzania, Kamerun.
 C) Zambia, Zimbabwe, Botswana. D) Mali, Niger, Czad.
 E) Kanada, Stany Zjednoczone, Meksyk.
34. „Ziemia jest traktowana jako własność wspólna – plemienna. Występuje bardzo mała efektywność gospodarowania przeznaczona wyłącznie na zaspokojenie własnych potrzeb.”
 Opis dotyczy rolnictwa
 A) pierwotnego. B) ekologicznego.
 C) intensywnego. D) plantacyjnego.
 E) uspołecznionego.
35. Kraj ten słynie z uprawy kwiatów, szczególnie tulipanów, hiacyntów i róż. Jego udział w światowym handlu roślinami ozdobnymi przekracza 50%. Którego państwa dotyczy opis?
 A) Francji. B) Włoch.
 C) Holandii. D) Japonii.
 E) Chin.
36. W którym kraju uprawa zboża odbywa się w sposób ekstensywny?

Kraj	Powierzchnia użytków rolnych przypadająca na 1 mieszkańca	Nawożenie w kg na 1 ha użytków rolnych	Plony w q/ha, q - kwintal
I	22,68	5,5	20,0
II	3,30	4,9	13,7
III	0,50	118,8	78,3
IV	0,44	93,2	34
V	0,004	261,0	54

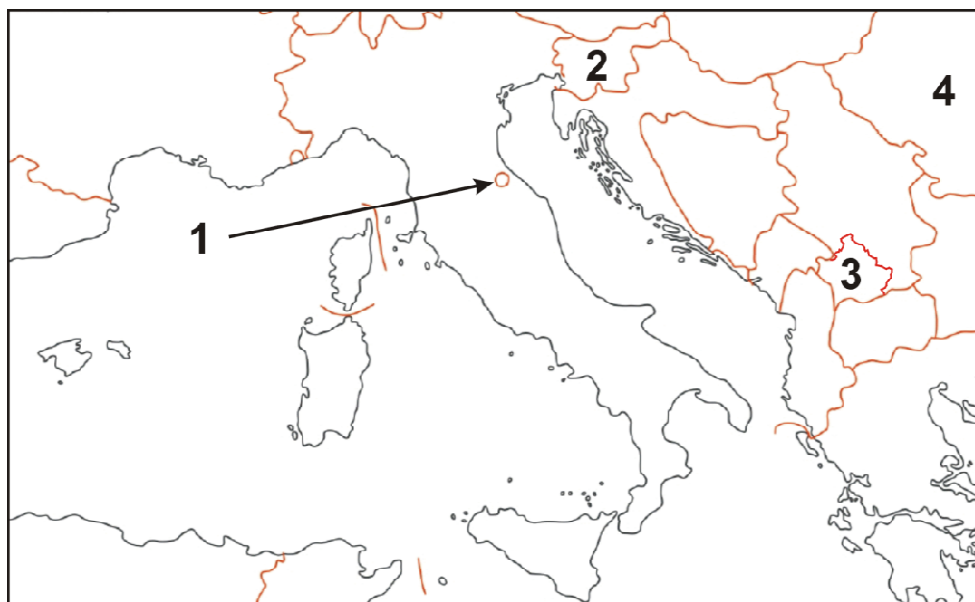
- A) Tylko **I**. B) Tylko **III**.
 C) Tylko **V**. D) **I** i **II**.
 E) **III**, **IV** i **V**.

37. Obszary na których współpracują ze sobą placówki naukowo-badawcze, instytuty naukowe, instytucje finansowe i przedsiębiorstwa obsługujące cały proces produkcyjny od etapu laboratoryjnego do wytworzenia i sprzedaży produktu nazywamy
- A) parkami naukowymi. B) okręgami przemysłowymi.
C) technopoliami. D) korporacjami.
E) koncernami.
38. W tabeli przedstawiono zatrudnienie w procentach według sektorów gospodarki w wybranych krajach.

Kraj	Sektory gospodarki		
	Rolnictwo	Przemysł	Usługi
I	3	22	75
II	10	12	78
III	83	5	12
IV	23	53	45

W którym kraju występuje przedindustrialna faza rozwoju społeczno-gospodarczego?

- A) Tylko **I**. B) Tylko **III**.
C) **II** i **IV**. D) **I** i **II**.
E) W żadnym kraju.
39. Transwal, Bodajbo, Kambalda to obszary wydobywania
- A) gazu ziemnego. B) ropy naftowej.
C) rud uranu. D) rud cynku i ołowiu.
E) złota.



40. Który zestaw zawiera prawidłowe nazwy krajów zaznaczonych na mapie cyframi?
- A) 1 – Watykan, 2 – Austria, 3 – Czarnogóra, 4 – Bułgaria.
B) 1 – Monako, 2 – Szwajcaria, 3 – Macedonia, 4 – Rumunia.
C) 1 – San Marino, 2 – Słowacja, 3 – Kosowo, 4 – Rumunia.
D) 1 – Andora, 2 – Chorwacja, 3 – Macedonia, 4 – Ukraina.
E) 1 – San Marino, 2 – Słowenia, 3 – Kosowo, 4 – Rumunia.